



UNIDAD EDUCATIVA MONTE TABOR – NAZARET
 Área de Matemáticas
 AIC: Números negativos y conjuntos de números
 I Parcial – I QM 2015 – 2016

Contenido:

Presentación:

Caligrafía:

10

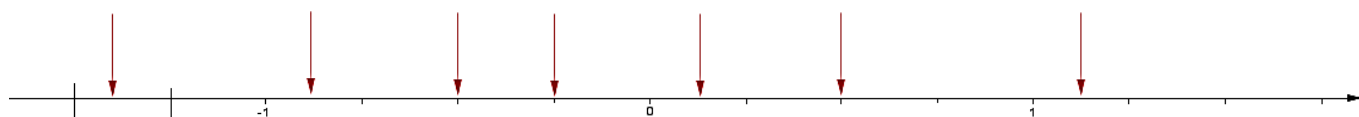
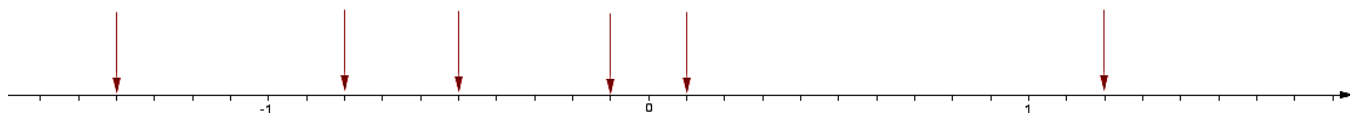
NOMBRE: _____ CURSO: 8vo. _____

FECHA: 20. mayo.2015

DOCENTE: _____

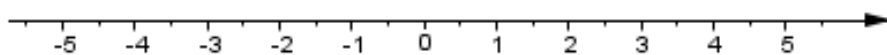
Referencia: MPT1_Pág. 92_casos 5; 6 y 7

5. ¿Qué números están marcados mediante flechas en la recta numérica?

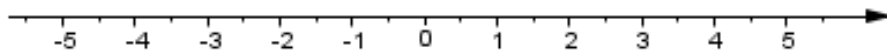


6. Ubica en la recta numérica los siguientes números racionales:

$$-3\frac{1}{2}; -2,3; -1\frac{1}{2}; 2,5$$

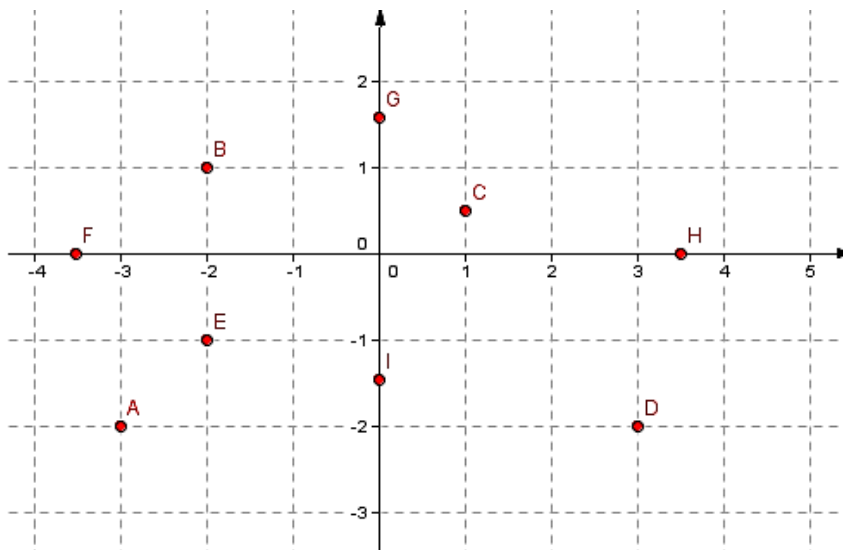


$$0,3; -0,5; -\frac{3}{4}; 4,8$$



7. Manejo del sistema de coordenadas:

a) Escribe los pares ordenados correspondientes a los puntos A; B; C; D; E; F; G; H; I



b) Ubica los puntos en el plano de coordenadas.

$A(-4; 3)$; $B(3; -4)$; $C(-2; -5,5)$; $D(-3; 0)$; $E\left(-3\frac{1}{2}; 4\right)$; $F(0; -4,2)$; $G\left(-1\frac{1}{2}; -1\frac{1}{2}\right)$

